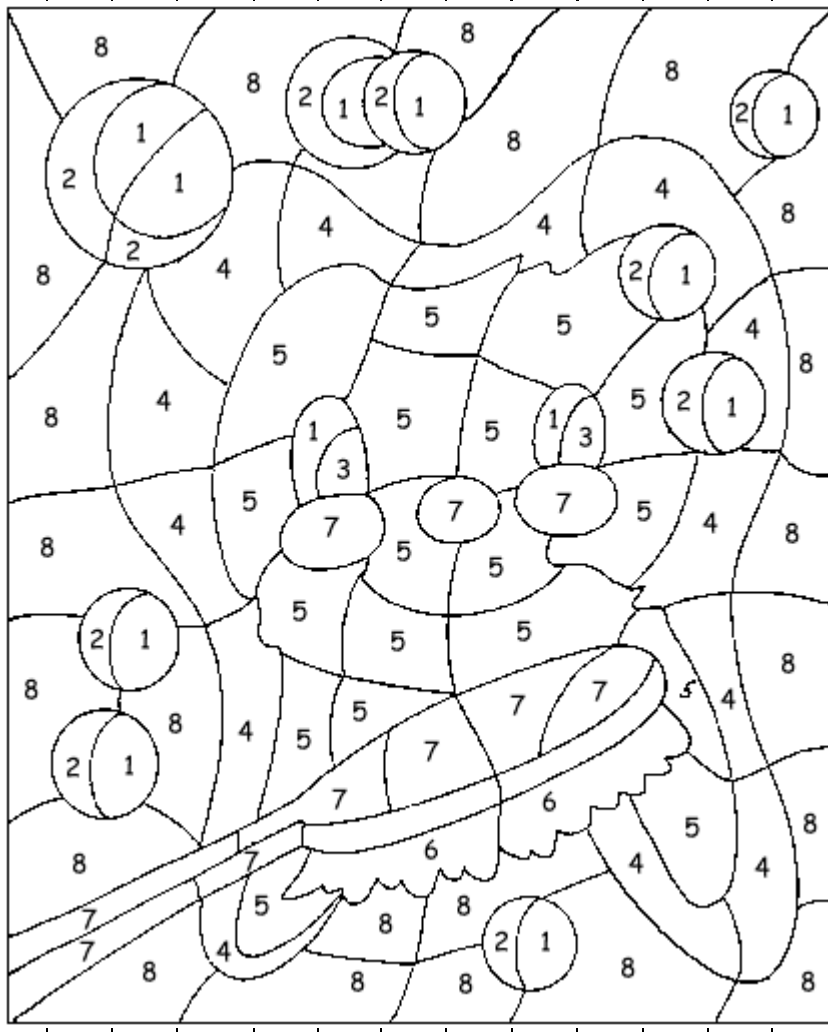



1			4			0													
2			3			0	0	0	0										
3			5			0	0	0	0	0	0	0	0						
4			6			0	0	0											
5			2			0	0												
6			1			0	0	0	0	0	0	0							
7			7			0	0	0	0	0	0								
8			9			0	0	0	0	0	0	0	0	0	0				
9			8			0	0	0	0	0									
10			10			0	0	0	0	0	0	0	0	0	0				



3	1	3			
6	3	3			
2	5	3			
4	5	4			
7	5	5			
6	7	6			
0	6	7			
4	8	6			
9	9	9			

IIIII	=	5	6
IIIIII	=	5	6
III	=	2	3
I	=	1	2
IIII	=	2	3

- 1 - žydra 2 - mėlyna 3 - juoda 4 - ruda
 5- balta 6- geltona 7 - raudona 8 - žalia




Koks tai skaičius? Nuspalvink tiek figūrų, koks šalia skaičius

1	<input type="checkbox"/>	<input type="checkbox"/>	<input type="checkbox"/>	<input type="checkbox"/>	<input type="checkbox"/>	<input type="checkbox"/>	<input type="checkbox"/>	<input type="checkbox"/>	<input type="checkbox"/>	<input type="checkbox"/>	<input type="checkbox"/>	<input type="checkbox"/>	+	<input type="checkbox"/>	<input type="checkbox"/>	=
2	<input type="radio"/>	<input type="radio"/>	<input type="radio"/>	<input type="radio"/>	<input type="radio"/>	<input type="radio"/>	<input type="radio"/>	<input type="radio"/>	<input type="radio"/>	<input type="radio"/>	<input type="radio"/>	<input type="radio"/>	+	<input type="radio"/>	<input type="radio"/>	=
3	<input type="checkbox"/>	<input type="checkbox"/>	<input type="checkbox"/>	<input type="checkbox"/>	<input type="checkbox"/>	<input type="checkbox"/>	<input type="checkbox"/>	<input type="checkbox"/>	<input type="checkbox"/>	<input type="checkbox"/>	<input type="checkbox"/>	<input type="checkbox"/>	<input type="checkbox"/>	+	<input type="checkbox"/>	=
4	<input type="checkbox"/>	<input type="checkbox"/>	<input type="checkbox"/>	<input type="checkbox"/>	<input type="checkbox"/>	<input type="checkbox"/>	+	<input type="checkbox"/>	<input type="checkbox"/>	<input type="checkbox"/>	<input type="checkbox"/>	<input type="checkbox"/>	<input type="checkbox"/>	<input type="checkbox"/>	<input type="checkbox"/>	=
5	<input type="checkbox"/>	<input type="checkbox"/>	<input type="checkbox"/>	<input type="checkbox"/>	<input type="checkbox"/>											

Nupiešk tokią pačią figūrą



Nuspalvink figūras, suskaičiuok. = = =




Šalia parašyk tokį patį skaičių. Nuspalvink tiek skrituliukų, koks skaičius parašytas

1			0	0	0	0	0	0	0	0	0	0	0	0
2			0	0	0	0	0	0	0	0	0	0	0	0
3			0	0	0	0	0	0	0	0	0	0	0	0
4			0	0	0	0	0	0	0	0	0	0	0	0
5			0	0	0	0	0	0	0	0	0	0	0	0
6			0	0	0	0	0	0	0	0	0	0	0	0
7			0	0	0	0	0	0	0	0	0	0	0	0
8			0	0	0	0	0	0	0	0	0	0	0	0
9			0	0	0	0	0	0	0	0	0	0	0	0
10			0	0	0	0	0	0	0	0	0	0	0	0

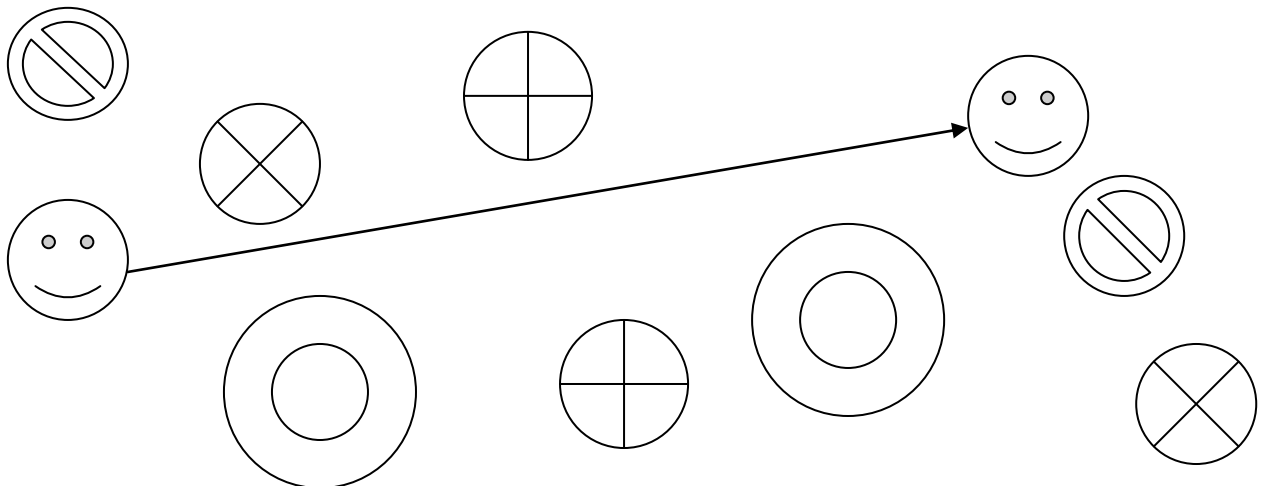


1= black 2=orange 3=yellow 4=green 5=pink

1	+	4	=					5	-	1	=			
6	+	2	=					4	-	1	=			
3	+	1	=					3	-	1	=			
2	+	5	=					2	-	1	=			



1-brown 2-yellow 3-orange 4-red
5-white 6-black 7-blue



Tikslai:

1. Mokyti skaičius iki 20.
2. Kartoti geometrines figūras.
3. Mokyti atlikti atimties ir sudėties veiksmus neperžengiant dešimties.

Uždaviniai:

Remdamiesi savo turimomis bei įgytomis žiniomis, praktiniu bandymu ir žodiniu mokytojos aiškinimu, mokiniai gebės:

1. pavadinti skaičius iki 20; rasti nurodytus skaičius;
2. atlikti atimties ir sudėties veiksmus neperžengiant dešimties.
3. pavadinti geometrines figūras, rasti tokią pačią geometrinę figūrą.